

【6】不进位加与不退位减

1. 计算下列各题。

$$\begin{array}{r} 236 \\ + 142 \\ \hline \end{array}$$

$$\begin{array}{r} 675 \\ - 245 \\ \hline \end{array}$$

$$\begin{array}{r} 487 \\ - 354 \\ \hline \end{array}$$

$$\begin{array}{r} 146 \\ + 523 \\ \hline \end{array}$$

$$\begin{array}{r} 896 \\ - 655 \\ \hline \end{array}$$


$$\begin{array}{r} 350 \\ + 438 \\ \hline \end{array}$$

$$\begin{array}{r} 946 \\ + 32 \\ \hline \end{array}$$

$$\begin{array}{r} 459 \\ - 46 \\ \hline \end{array}$$

2. 看图列式计算。

(1) 学校买了 243 本故事书 买了 65 本科技书



一共买了多少本书

(2) 衬衣 145 件



连衣裙有多少件 少 72 件

3. 商店里原有 578 袋奶粉, 卖出 132 袋, 运走 215 袋。现在商店里有多少袋奶粉?


4. 工程队挖一条 760 米长的水渠, 已经挖了 520 米。剩下的每天挖 8 米, 还要挖多少天?

5.

| | | |
|-------|-------|-------|
| 微波炉 | 电炒锅 | 电热水壶 |
| 815 元 | 432 元 | 311 元 |

你能提出哪些数学问题? 还能解答吗?





【7】练一练 六

1. 口算。

$$428 + 371 = \quad 260 + 39 = \quad 340 + 516 = \quad 783 - 431 =$$

$$478 - 321 = \quad 269 - 38 = \quad 869 - 127 = \quad 404 + 274 =$$

2. 在 里填数。

$$200 + 300 + \boxed{} = 900$$

$$900 - 300 - 400 = \boxed{}$$

$$748 = 700 + \boxed{} + 8$$

$$684 = \boxed{} + \boxed{} + \boxed{}$$

$$9 + 70 + 300 = \boxed{}$$

$$840 = 900 - \boxed{}$$

$$1000 = \boxed{} + \boxed{}$$

$$800 = \boxed{} + 400 + 200$$

$$= \boxed{} \times \boxed{}$$

$$= \boxed{} \times 4$$


$$= \boxed{} \times \boxed{} + \boxed{}$$

$$= \boxed{} \times 2$$

3. 果园里有梨树和苹果树共 87 棵,其中苹果树有 39 棵,桃树比梨树少 19 棵。桃树有多少棵?

4. 少先队员们做宣传卡,第一组做了 45 张,第三组比第一组少做 8 张,第二组比第三组多做 5 张。第二组做了多少张?





【8】练一练 七

1.

$$200 \times 2 = \square$$

$$40 \times 2 = \square$$

$$3 \times 2 = \square$$

框中有 \square 个百、
 \square 个十和 \square
个一,合起来是 \square 。

$$100 \times 3 = \square$$

$$30 \times 3 = \square$$

$$1 \times 3 = \square$$

框中有 \square 个百、
 \square 个十和 \square
个一,合起来是 \square 。

2. 按规律填数。


(1) 420, (), 430, 435, (), 445, (), ()。

(2) 880, (), 860, (), 840, (), (), 810。

3. 水果店有苹果 48 筐,菠萝比苹果少 23 筐,香蕉比菠萝多 19 筐。香蕉有多少筐?

4. 商店有笔 98 支,其中钢笔和铅笔共有 68 支,其余的是圆珠笔。橡皮的块数是圆珠笔支数的 2 倍。橡皮有多少块?





【9】1000 与 10000

1. 在 里填数。

$$4000 + 3000 = \boxed{} \quad 500 \times 2 = \boxed{} \quad 7200 = \boxed{} + 200$$

$$400 + 600 = \boxed{} \quad 3000 \times 3 = \boxed{} \quad 2800 = 800 + \boxed{}$$

2. 填空。

10 个()是 1000。

10 个 1000 是()。

6 个 1000 是()。

2 个 5000 是()。

500 是()个 100。

8000 是()个 1000。

3. (1) 千位的右边一位是()位,千位的左边一位是()位。

(2) 最高位是千位的数是()位数,10000 是()位数。

4.

超市 6 月份牛奶销售统计表

| | 买进/箱 | 卖出/箱 | 剩下/箱 |
|-----|------|------|------|
| 上半月 | 6000 | 4000 | |
| 下半月 | 4000 | 3000 | |
| 合 计 | | | |

5. 小资料。

1 万有多大?

如果每秒数 1 个数,从 1 数到 10000 要将近 3 时。一家普通电影院大约有 1000 个座位,10 家同样大的电影院才有 10000 个座位。100 张纸的厚度大约是 1 厘米,10000 张纸的厚度大约是 100 厘米,也就是 1 米。一个成年人 2 时大约走 10000 米,人骑自行车 40 分大约骑 10000 米,一列特快火车 5 分就可以行驶 10000 米,飞机不到 1 分就可以飞行 10000 米。一般民航客机飞行的高度大约是 10000 米。

